


Reto:
¡Mido al pez!



El pez mide aproximadamente _____  de longitud.

El pez mide aproximadamente _____  de longitud.

El pez mide aproximadamente 3 lapices de longitud.
El pez mide aproximadamente 9 sacapuntas de longitud.

Solución:




...*"Con amigos se aprende mejor"*...
Lev Vigotsky



Reto:

Invente problemas de suma y resta.
Resuélvalos



En un árbol habían 7 pájaros, se fueron 3. ¿Cuántos pájaros quedaron en el árbol?
 $7 - 3 = 4$
Se quedaron 4 pájaros.

Hay 9 niños en total, de ellos 6 son varones. ¿Cuántas niñas hay?
 $9 - 6 = 3$
Hay 3 niñas.

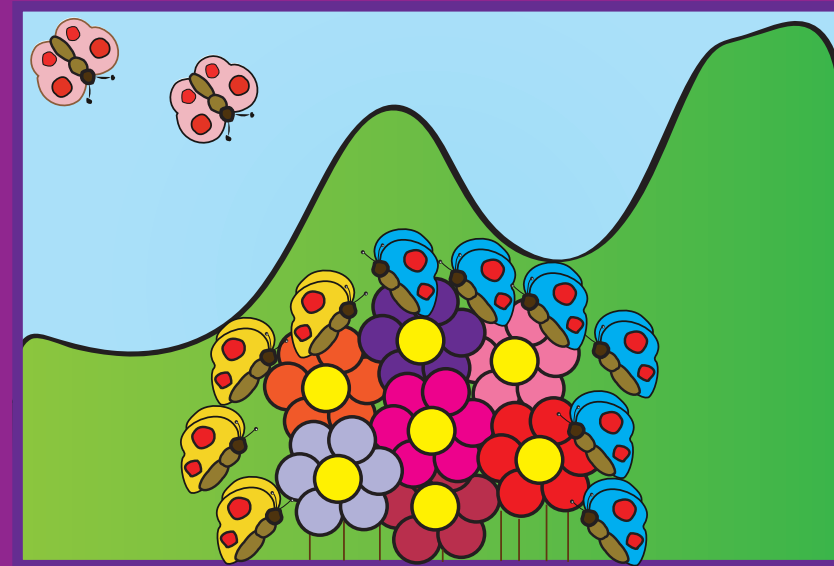
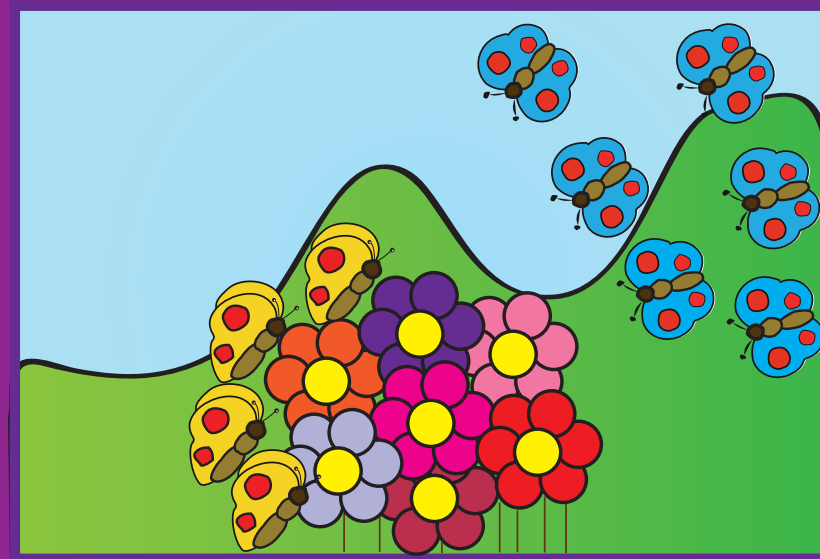
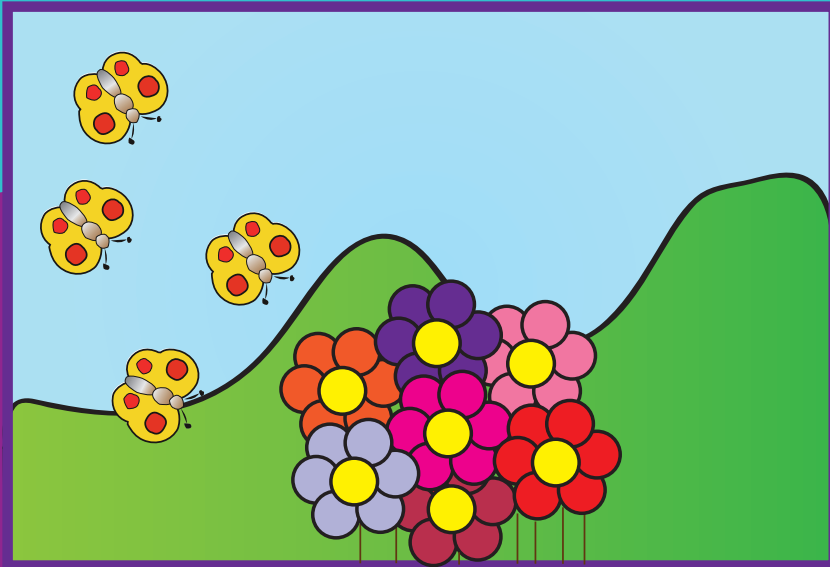
Hay 7 pollitos en el corral, 3 de ellos quieren salir. ¿Cuántos pollitos se quedarán en el corral?
 $7 - 3 = 4$
Se quedarán 4 pollitos.

Solución:

En un árbol habían _____ pájaros. Se fueron _____. ¿Cuántos pájaros quedaron en el árbol? _____
Hay _____ niños en total. De ellos _____ son varones. ¿Cuántas niñas hay? _____
Invento otros cuentos.

Reto:

Invente una historia de cómo se reunieron las mariposas.



¿Cuántas mariposas hay al final?

Llegaron 4 mariposas.
A ellas se sumaron otras 6 mariposas. Luego se sumaron otras 2 mariposas. ¿Cuántas mariposas hay al final?
 $4 + 6 + 2 = 12$
Hay 12 mariposas al final.

Solución:



...“Con amigos se aprende mejor”...
Lev Vigotsky










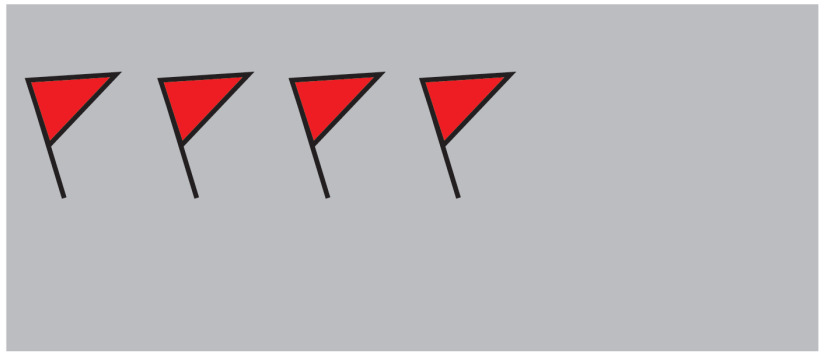
Gobierno de Guatemala
Ministerio de Educación



Reto:

Investigue

Encuentra más detalles en el Texto Nacional "Serie GUATEMÁTICA"

		Número de personas	
		Fútbol	
		Baloncesto	
		Ciclismo	
		Maratón	

Realice una encuesta para averiguar sobre deportes preferidos. Llene la tabla y compártala con sus amiguitos.

Solución:
 Fútbol: 12 niños
 Basquetbol: 9 niños
 Ciclismo: 7 niños
 Maratón: 4 niños



...“Con amigos se aprende mejor”...
 Lev Vigotsky



Gobierno de Guatemala
 Ministerio de Educación



Reto:

Contemos abejas



¡Observemos esas abejas!
¿Cuántas están cerca de las flores? _____ y ¿cuántas abejas siguen volando? _____

Solución:
5 abejas están cerca de las flores.
9 abejas siguen volando.



...“Con amigos se aprende mejor”...
Lev Vigotsky